

**PRUEBAS LIBRES PARA LA OBTENCIÓN DEL TÍTULO DE GRADUADO  
EN EDUCACIÓN SECUNDARIA OBLIGATORIA DESTINADAS A  
PERSONAS MAYORES DE DIECIOCHO AÑOS EN LA COMUNIDAD  
AUTÓNOMA DE CASTILLA-LA MANCHA**

**CUESTIONARIO CONVOCATORIA DE JUNIO 2023**

DNI	<input type="text"/>	Nombre	<input type="text"/>
Apellidos	<input type="text"/>		
Centro de Examen	<input type="text"/>		

**ÁMBITO SOCIAL**

**Instrucciones Generales:**

- Duración del ejercicio: 1 hora y 30 minutos.
- Mantenga su DNI en lugar visible durante la realización de la prueba.
- Realice cada ejercicio en los espacios reservados para ello a continuación de cada pregunta y entregue este cuadernillo completo al finalizar la prueba.
- Lea detenidamente los textos, cuestiones o enunciados.
- Cuide la presentación y la ortografía.
- Revise la prueba antes de entregarla.

**Criterios de calificación:**

*Este ejercicio se calificará numéricamente entre 0 y 10.*

**Nota: Para superar el ÁMBITO SOCIAL, deberá obtener una puntuación mínima de cinco puntos.**

## EJERCICIOS

**1) Defina los siguientes conceptos históricos:**

**(2 puntos)** (0,5 c/u)

**1.a) Rotación trienal:**

**1.b) Monarquía absoluta:**

**1.c) Sociedad estamental:**

**1.d) Constitución:**

**2) Relacione las fechas con los acontecimientos históricos:**

**(1 punto)** (0,1 c/u)

<b>1</b>	Caída del Imperio Romano de Occidente		476
<b>2</b>	Constitución vigente en España		711
<b>3</b>	Descubrimiento de América		1492
<b>4</b>	Final de la Segunda Guerra Mundial		1760
<b>5</b>	Inicio de la Primera Guerra Mundial		1789
<b>6</b>	Inicio de la Revolución Industrial		1812
<b>7</b>	Llegada de los musulmanes a la Península Ibérica		1914
<b>8</b>	Primera Constitución Española		1917
<b>9</b>	Revolución Francesa		1945
<b>10</b>	Revolución Rusa		1978


**3) Relacione, indicando el número en los recuadros coloreados, el nombre del pintor con el estilo o movimiento artístico de su obra, y con la obra.**


**(1 punto)**

(Acerto: 0,2 si contesta correctamente el estilo o movimiento artístico y la obra)

Nº	AUTOR
<b>1</b>	<b>Boticelli</b>
<b>2</b>	<b>Mirón</b>
<b>3</b>	<b>Monet</b>
<b>4</b>	<b>Murillo</b>
<b>5</b>	<b>Picasso</b>

Nº	ESTILO O MOVIMIENTO ARTÍSTICO
	<b>Barroco</b>
	<b>Cubismo</b>
	<b>Griego</b>
	<b>Impresionismo</b>
	<b>Renacimiento</b>

Nº	O B R A
	<div style="display: flex; align-items: flex-start;">  <div> <p><b>Imagen Nº 1:</b> Discóbolo.</p> <p>Fuente: Wikipedia</p> <p>Url:  <a href="https://es.wikipedia.org/wiki/Disc%C3%B3bolo#/media/Archivo:SF_EC_BritMus_Roman_021-2.jpg">https://es.wikipedia.org/wiki/Disc%C3%B3bolo#/media/Archivo:SF_EC_BritMus_Roman_021-2.jpg</a></p> <p>Licencia: CreativeCommons</p> </div> </div>




**Imagen Nº 2:** El nacimiento de Venus

Fuente: Wikipedia

Url:

[https://es.wikipedia.org/wiki/El\\_nacimiento\\_de\\_Venus\\_\(xxxxxxxixi\)#/media/Archivo:xxxxxxxxxxxxxxxxxxxxx - La\\_nascita\\_di\\_Venere\\_-\\_Google\\_Art\\_Project\\_-\\_edited.jpg](https://es.wikipedia.org/wiki/El_nacimiento_de_Venus_(xxxxxxxixi)#/media/Archivo:xxxxxxxxxxxxxxxxxxxxx - La_nascita_di_Venere_-_Google_Art_Project_-_edited.jpg)

Licencia: Creative Commons



**Imagen Nº 3:** Impresión, sol naciente

Fuente: Wikipedia

Url:

[https://es.wikipedia.org/wiki/xxxxxxxxxxxxxxxxx#/media/Archivo:xxxxxxxx - Impression,\\_Sunrise.jpg](https://es.wikipedia.org/wiki/xxxxxxxxxxxxxxxxx#/media/Archivo:xxxxxxxx - Impression,_Sunrise.jpg)

Licencia: Creative Commons



**Imagen Nº 4:** Inmaculada Concepción de El Escorial

Fuente: Wikipedia

Url:

[https://es.wikipedia.org/wiki/Bartolom%C3%A9\\_xxxxxxxxxxxxxxxxxx#/media/Archivo:Bartolom%C3%A9\\_xxxxxxxxxxxxxxxxxx\\_021.jpg](https://es.wikipedia.org/wiki/Bartolom%C3%A9_xxxxxxxxxxxxxxxxxx#/media/Archivo:Bartolom%C3%A9_xxxxxxxxxxxxxxxxxx_021.jpg)

Licencia: Creative Commons



**Imagen Nº 5:** Guernica

Fuente: Wordpress

Url:

<https://wordpress.org/openverse/image/048e3b67-017d-4a3c-bd4a-b0e3fc49bcf9>

Licencia: Creative Commons



4) Sitúe en el mapa las siguientes provincias españolas.

(1 punto) (0,1 c/u)

1. Asturias	2. Barcelona	3. Cáceres	4. Cádiz	5. Ciudad Real
6. Granada	7. Salamanca	8. Segovia	9. Valencia	10. Zaragoza



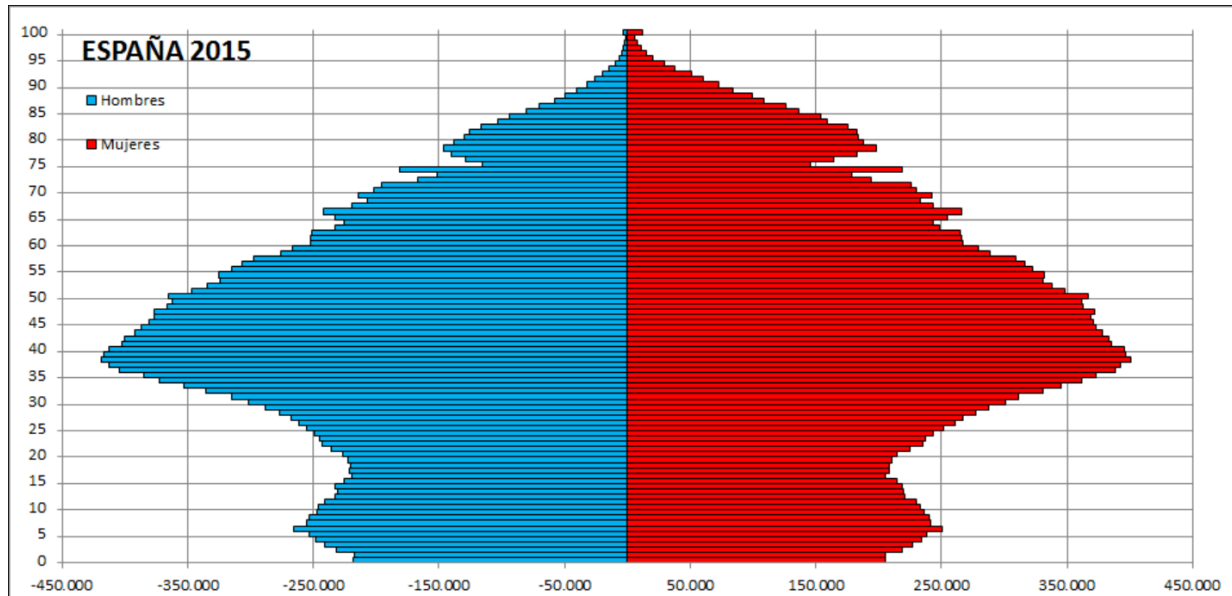
**Imagen Nº 6:** Mapa político de España

Fuente: Wordpress

Url: [Provincias de dibujo vectorial de España | Vectores de dominio público \(publicdomainvectors.org\)](https://publicdomainvectors.org)

Licencia: Creative Commons

5) Observe atentamente la siguiente pirámide demográfica y conteste las preguntas que se indican a continuación: (1 punto) (0,25 c/u)



**Imagen Nº 7:** Pirámide de población en España en 2015

Fuente: Wordpress

Url: [Spain\\_1950-2014\\_Population\\_pyramid.gif](http://Spain_1950-2014_Population_pyramid.gif) (954x465) (wikimedia.org)

Licencia: Creative Commons

a) ¿Qué es una pirámide de población?

b) ¿Cómo es la forma de esta pirámide de población y qué indica?

c) ¿Por qué tiene una base tan estrecha?

d) ¿En qué edades se observa un mayor desequilibrio por sexo? ¿A qué se debe?



**6) Conteste las siguientes preguntas:**

**(1 punto)** (0,20 c/u)

- a) ¿Qué características tiene el clima mediterráneo de interior?
- b) ¿Qué es un paralelo? Ponga un ejemplo de paralelo.
- c) ¿Qué fue un valido? Ponga un ejemplo de valido.
- d) ¿Qué es una borrasca? ¿A qué tiempo se asocia?
- e) ¿Qué fue la Guerra Fría? Indique el nombre de conflictos que tuvieron lugar durante la misma

7) Lea el siguiente texto y conteste las preguntas que se indican a continuación.

(1,5 puntos) (0,5 c/u)

"Muy pronto un **negocio** mucho más atractivo que el teatral atrajo mi atención y la del país. Lo conocí por primera vez hacia 1926. Constituyó una sorpresa muy agradable descubrir que era un negociante muy astuto... Todo lo que compraba aumentaba de valor... Nunca obtuve beneficios. Parecía absurdo vender una acción a 30 cuando se sabía que dentro de un año doblaría o triplicaría su valor.

**El día del hundimiento final**, mi amigo Max Gordon me telefoneó desde Nueva York. En cinco palabras lanzó una afirmación, que con el tiempo creo que ha de compararse favorablemente con cualquiera de las citas más memorable de la historia americana: "Marx, **la broma ha terminado**".

Groucho Marx "*Groucho y yo*". Ed. Ariel

a) ¿A qué hecho histórico hace referencia este texto?

b) Describa el significado de las expresiones marcadas en negrita en el texto:

- *Negocio*
- *El día del hundimiento final*
- *La broma ha terminado*

c) Explique la medida tomada por el presidente norteamericano F. D. Roosevelt llamada "New Deal" para solucionar este problema.





**8) Conteste las siguientes preguntas:**

- a) Escriba en orden cronológico los diferentes reyes de la dinastía de los Austrias.**
- b) Explique el significado de la siguiente cita “El Imperio donde nunca se ponía el sol”. ¿Durante el reinado de qué rey?**
- c) ¿Qué fue la Unión de Armas? ¿Qué consecuencias tuvo?**
- d) Explique por qué finaliza la dinastía de los Austrias.**
- e) Explique la forma de gobierno, siguiendo el modelo francés, implantada, por Felipe V.**
- f) Carlos III es considerado el primer “Déspota Ilustrado”. Caracterice esta forma de gobierno.**

**(1,5 puntos) (0,25 c/u)**





**Castilla-La Mancha**

Consejería de Educación,  
Cultura y Deportes



